

たしかめプリント【小学校6年生】数と計算①



年 組 番 名前

次の計算をしましょう。

(1) $\frac{5}{8} \times \frac{3}{4}$

レベル6

(2) $\frac{5}{9} \times \frac{2}{3}$

レベル6

(3) $\frac{2}{5} \times 0.6$

レベル8

(4) $\frac{3}{4} \div \frac{5}{6}$

レベル6


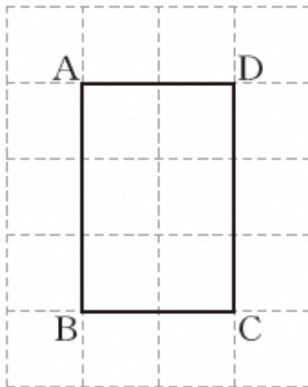
たしかめプリント【小学校6年生】図形①



年 組 番 名前

次の各問に答えなさい。

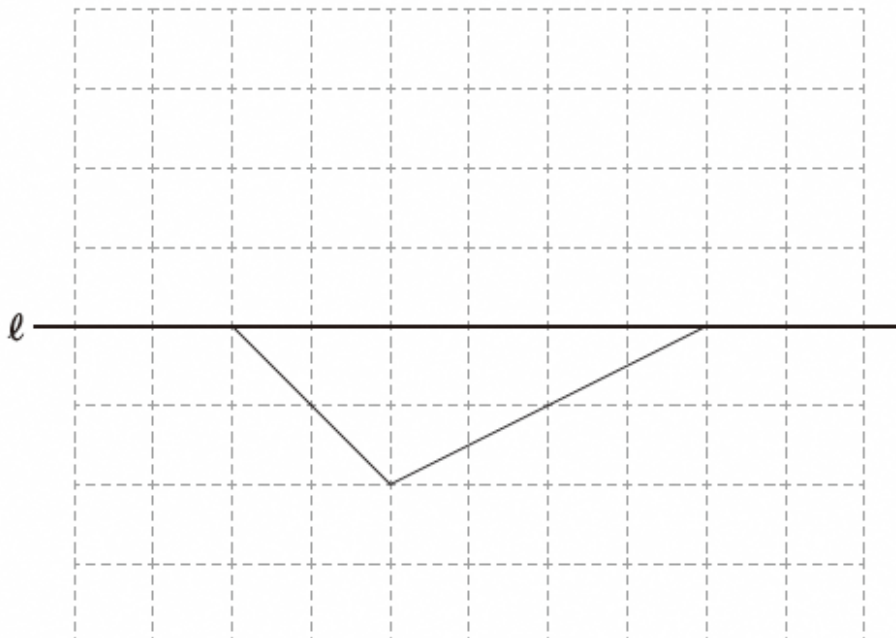
(1) 下の長方形ABCDの2倍の拡大図を、下の方眼を利用してかきなさい。



レベル6

(2) 下の図は、直線 l を対称の軸とする線対称な図形の一部です。

この線対称な図形を、下の方眼を利用して完成しなさい。



レベル6

たしかめプリント【小学校6年生】変化と関係①



年 組 番 名前

(1) 12:9と等しい比を、下のアからエまでの中から1つ選びなさい。

レベル6

ア 3 : 4

イ 4 : 3

ウ 9 : 6

エ 9 : 12

(答え)

たしかめプリント【小学校6年生】データの活用①



年 組 番 名前

(1)あるレストランのセットメニューでは、次のA, B, Cからそれぞれ一品ずつ選んで注文します。その選び方は全部で何通りあるか求めなさい。

レベル7

A

- ・エビフライ
- ・ハンバーグ

B

- ・ライス
- ・パン

C

- ・アップルジュース
- ・オレンジジュース
- ・グレープジュース

(答え)