



# できるかな？

1-1 (H23~)

ねん くみ ばん

なまえ

1 あいている □の なかの かずが わかるかな。〔10のまとまり〕

① 8と  で 10です。

② 3と  で 10です。

2もんのうち  
**もん**  
できた!!

2 つぎの けいさんが できるかな。〔たし算・ひき算〕

①  $3 + 2$

②  $2 + 6$

③  $5 + 2$

④  $3 + 7$

⑤  $6 + 4$

⑥  $5 - 3$

⑦  $7 - 2$

⑧  $8 - 6$

⑨  $10 - 8$

⑩  $10 - 7$

10もんのうち  
**もん**  
できた!!



# できるかな？

1-2 (H23~)

ねん くみ ばん  
なまえ

1 あいている □の なかの かずが わかるかな。[10のまとまり]

① 8と  で 10です。

② 3と  で 10です。

2もんのうち  
**もん**  
できた!!

2 あいている □の なかの かずが わかるかな。[120までの数]

①  — 6 — 8 —  — 12

② 5 — 10 —  — 20

2もんのうち  
**もん**  
できた!!

3 つぎの けいさんが できるかな。[たし算・ひき算]

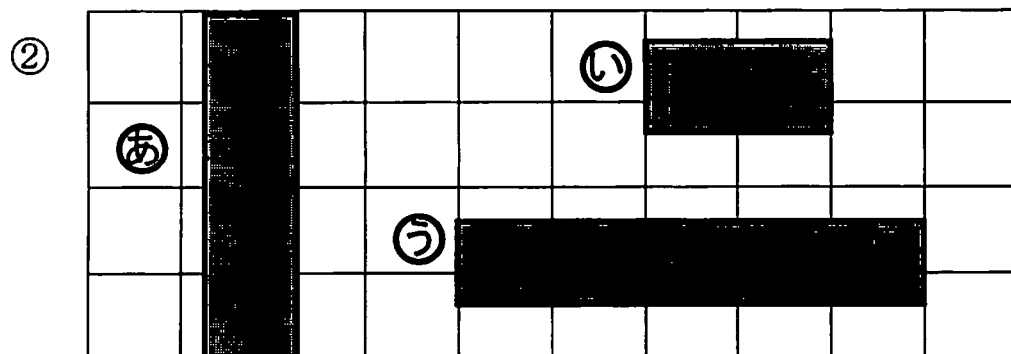
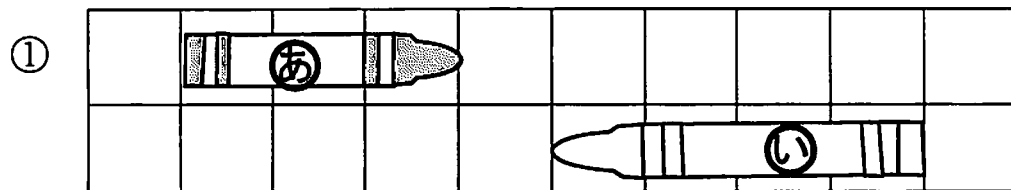
①  $3 + 7$                       ②  $6 + 4$                       ③  $10 - 8$

④  $10 - 7$                       ⑤  $13 + 4$                       ⑥  $5 + 8$

⑦  $7 + 4$

7もんのうち  
**もん**  
できた!!

4 どれが ながいかな。○をつけよう。[長さくらべ]



2もんのうち  
**もん**  
できた!!



# できるかな？

1-3 (H23~)

ねん くみ ばん

なまえ

① あいている □の なかの かずが わかるかな。〔120までの数〕



2ものうち  
**もん**  
できた!

② つぎの けいさんが できるかな。〔たし算・ひき算〕

①  $3 + 2$

②  $2 + 6$

③  $5 + 2$

④  $5 - 3$

⑤  $7 - 2$

⑥  $8 - 6$

⑦  $15 - 2$

⑧  $12 - 5$

⑨  $13 - 9$

9ものうち  
**もん**  
できた!



# できるかな？

1-4 (H23~)

ねん くみ ばん  
なまえ

1 あいている □の なかの かずが わかるかな。[10のまとまり]

① 23は 10が  こと 3 です。


② 90は 10が  こ あつまった かずです。

2もんのうち  
**もん**  
できた!!

2 あいている □の なかの かずが わかるかな。[120までの数]

①  97 —  98 —  —

② 74, 96, 100, 76, 103 を ちいさいじゅんにならべる。



2もんのうち  
**もん**  
できた!!

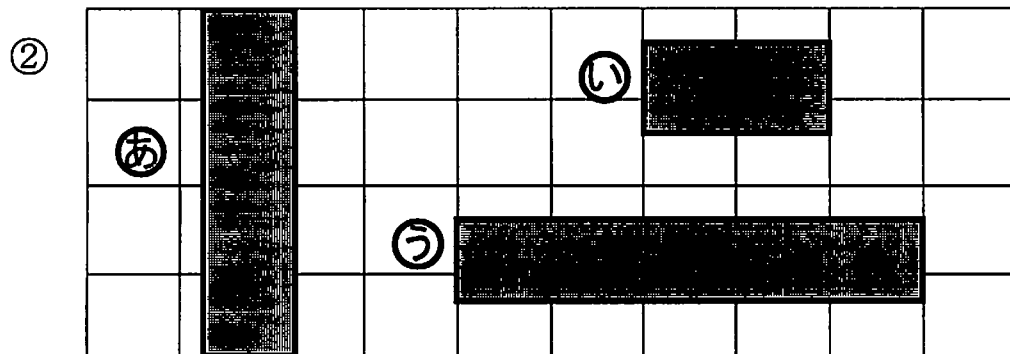
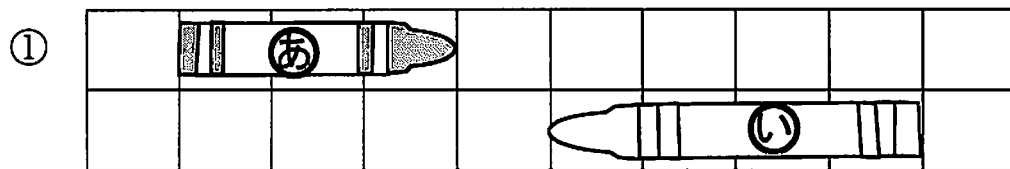
3 つぎの けいさんが できるかな。[たし算・ひき算]

① 15 - 2      ② 12 - 5      ③ 13 - 9

④ 20 + 40      ⑤ 70 - 30

5もんのうち  
**もん**  
できた!!

4 どれが ながいかな。○をつけよう。[長さくらべ]



2もんのうち  
**もん**  
できた!!



# できるかな？

1-5 (H23~)

ねん くみ ばん  
なまえ

① あいている □の なかの かずが わかるかな。〔10のまとまり〕

① 23は 10が  こと 3 です。

② 90は 10が  こ あつまった かずです。

2もんのうち  
**もん**  
できた!!

② あいている □の なかの かずが わかるかな。〔120までの数〕

①  97 —  98 —  —

② 74, 96, 100, 76, 103 を ちいさいじゅんにならべる。

⇒  ⇒  ⇒  ⇒

2もんのうち  
**もん**  
できた!!


③ つぎの けいさんが できるかな。〔たし算・ひき算〕

①  $13 + 4$       ②  $5 + 8$       ③  $7 + 4$


④  $20 + 40$       ⑤  $70 - 30$

5もんのうち  
**もん**  
できた!!


④ なんじ なんふんか わかるかな。〔時刻を読む〕



じ



じ  ふん



じ  ふん

3もんのうち  
**もん**  
できた!!