

冬休みすらすらプリント！

名前

年 組 番

小4-①

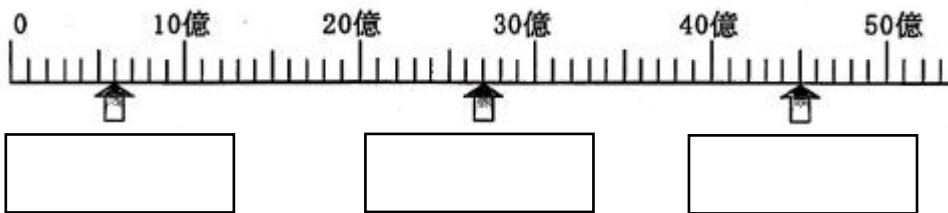
① 下の数を数字で書きましょう。

① 二兆三千五百四十七億八千万

② 三兆二百五十七億四千万

③ 五億二千三百八十二万三千四百二十九

② 下の数直線の に、あてはまる数を書きましょう。



③ 次の計算をしましょう。

① $40 \div 2$


② $52 \div 4$

③ $84 \div 7$

④ $135 \div 3$

⑤ $256 \div 4$

⑥ $804 \div 6$



冬休みすらすらプリント！

名前

年 組 番

小4-②

① 次の計算をしましょう。

① $5.2 + 3.4$

② $5.4 + 3.5$

③ $2.8 + 4.5$

④ $1.52 + 8.34$

⑤ $0.12 + 0.43$

⑥ $6.7 - 2.9$


② 次の計算をしましょう。

① $60 \div 20$

② $120 \div 30$

③ $80 \div 40$

④ $84 \div 21$



冬休みすらすらプリント！

名前

年 組 番

小4-③

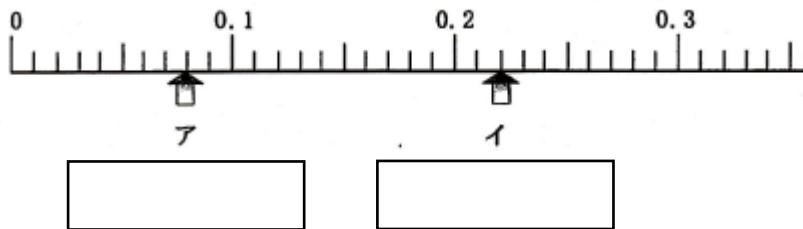
① 下の数を数字で書きましょう。

① 二兆三千五百四十七億八千万

② 三兆二百五十七億四千万

③ 五億二千三百八十二万三千四百二十九

② 下の数直線のア、イのめもりにあたる数を小数で書きましょう。



③ 次の計算をしましょう。

① 1.8×7


② 0.3×2

③ 40.6×9

④ 24.5×8

⑤ $5.1 \div 3$

⑥ $2.8 \div 4$



冬休みすらすらプリント！

名前

年 組 番

小4-④

① 次の計算をしましょう。

① $40 \div 2$

② $52 \div 4$

③ $84 \div 7$

④ $135 \div 3$

⑤ $256 \div 4$

⑥ $804 \div 6$


② 次の計算をしましょう。

① $60 \div 20$

② $120 \div 30$

③ $84 \div 21$

④ $135 \div 15$



冬休みすらすらプリント！

年 組 番

名前

小4-⑤

① 次の計算をしましょう。

① $5.2 + 3.4$

② $5.4 + 3.5$

③ $2.8 + 4.5$

④ $1.52 + 8.34$

⑤ $0.12 + 0.43$


⑥ $6.7 - 2.9$

⑦ $3.7 - 2.5$

⑧ $6.35 - 2.81$

⑨ $6.78 - 2.53$

⑩ $0.7 - 0.54$



冬休みすらすらプリント！

年 組 番

名前

小4-⑥

① 四捨五入して、一万の位までのがい数にしましょう。

① 123983

② 7204761

② 次の分数のたし算とひき算の計算をしましょう。

① $\frac{1}{5} + \frac{3}{5}$

② $\frac{5}{6} + \frac{1}{6}$

③ $\frac{4}{7} + \frac{1}{7}$

④ $\frac{7}{9} + \frac{4}{9}$

⑤ $1 - \frac{2}{3}$

⑥ $1 - \frac{3}{8}$

③ 次の計算をしましょう。あまりも書きましょう。

(1) $74 \div 6$


(2) $87 \div 42$

答え

あまり

答え

あまり



冬休みすらすらプリント！

名前

年 組 番

小4-⑦

① 次の計算をしましょう。

① $60 \div 20$

② $120 \div 30$

③ $84 \div 21$

④ $135 \div 15$

② 次の計算をしましょう。

① 1.8×7


② 0.3×2

③ 40.6×9

④ 24.5×8

⑤ $5.1 \div 3$

⑥ $2.8 \div 4$



冬休みすらすらプリント！

年 組 番

名前

小4-⑧

① 次の計算をしましょう。

① $5.2 + 3.4$

② $5.4 + 3.5$

③ $2.8 + 4.5$

④ $1.52 + 8.34$

⑤ $0.12 + 0.43$


⑥ $6.7 - 2.9$

⑦ $3.7 - 2.5$

⑧ $6.35 - 2.81$

⑨ $6.78 - 2.53$

⑩ $0.7 - 0.54$



冬休みすらすらプリント！

名前

年 組 番

小4-⑨

① 次の計算をしましょう。あまりも書きましょう。

(1) $74 \div 6$

答え


あまり

(2) $87 \div 42$

答え

あまり

② 下の数直線のア、イのめもりにあたる数を小数で書きましょう。



③ 四捨五入して、一万の位までののがい数にしましょう。

① 123983

② 7204761


④ 次の計算をしましょう。

① $60 \div 20$

② $120 \div 30$

③ $84 \div 21$

④ $135 \div 15$



冬休みすらすらプリント！

年 組 番

名前

小4-⑩

① 次の分数のたし算とひき算の計算をしましょう。

①

$$\frac{1}{5} + \frac{3}{5}$$

②

$$\frac{5}{6} + \frac{1}{6}$$

③

$$\frac{4}{7} + \frac{1}{7}$$

④

$$\frac{7}{9} + \frac{4}{9}$$

⑤

$$1 - \frac{2}{3}$$

⑥

$$1 - \frac{3}{8}$$

② 次の計算をしましょう。

① $3.7 - 2.5$

② $6.35 - 2.81$

③ $6.78 - 2.53$

④ $0.7 - 0.54$